
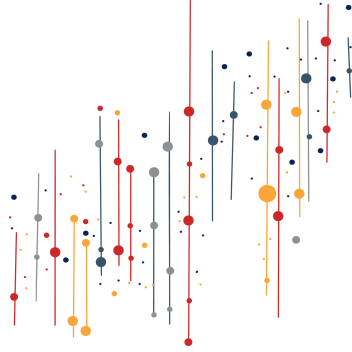







KŪRYBINĖ UŽDUOTIS

Atidžiai peržiūrėk paveikslėlius ir įvardink, kokias figūras (taškus, tieses, atkarpas, spindulius ir kt.) panaudojo juos vaizduojant.




Dabar tu pabūk kūrėju ir sukurk savo taškų, tiesių, spindulių ir atkarpų paveikslą.


Mano sukurta figūra naudojant taškus:



Mano sukurta figūra naudojant atkarpas:



Mano sukurta figūra naudojant spindulius:



Mano sukurta figūra naudojant tieses:

